

La Retorcueva

El diseñador y sus cuentas.

Nos vamos de tiendas.

¿Qué puedo comprar?



Nombre

1 ¿Qué puedo comprar?

Revisa las imágenes que aparecen en la parte inferior de la ficha. Recórtalas y pégalas al lado del precio correcto. ¡Recuerda! Antes tendrás que calcular el valor total de las monedas y billetes que aparecen en cada opción y averiguar a qué objeto pertenecen.

OBJETO 1: ___ céntimos



OBJETO 2: ___ euros



OBJETO 3: ___ euros




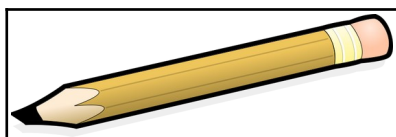
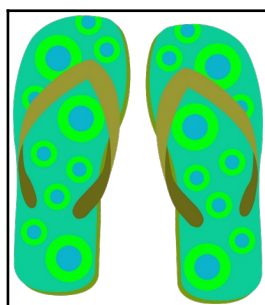


OBJETO 4: ____ euros



OBJETO 5: ____ euros



OBJETO 6: ____ euro y ____ céntimos





UNIÓN EUROPEA
Fondos Europeo de Desarrollo Regional



**Junta
de Andalucía**

Consejería de Educación
y Deporte